



Výnimočné školy

Lenka Paseková

Taliansko
Finančné inštitúcie



Taliansko

Zuzka bola dnes s rodičmi v meste. Boli vybavovať pôžičku na rekonštrukciu bytu. "Peťo, to je čistá katastrofa chodiť po úradoch. Normálne je človek z toho talian - tam do banky, tam do poisťovne, tam sporenie...." sťažovala sa Zuzka po návrate Peťovi. "No ja som bol v tom, že taliani žijú v Taliansku a ako počujem, tak aj u nás," zasmial sa Peťo.



Vyfarbi vlajku Talianska.



Vyznač Taliansko na mape Európy.



Hlavné mesto: (vyznač ho)

Najväčšie jazero:

Najväčší ostrov:

Najvyšší vrch:

Najdlhšia rieka:



Mamičku pobavili Zuzkine komentáre a spýtala sa jej či vie, že v Taliansku je aj najstaršia banka na svete. Zuzku táto informácia prekvapila a začala zisťovať prečo a kedy vznikli finančné inštitúcie a aký majú význam. Aké finančné inštitúcie máme na Slovensku? Načo nám slúžia? Ktoré z nich sú v najbližšom meste?

.....
.....
.....
.....




"Peťo, ale to je celkom zaujímavé s tou históriou bánk, už sa mi to nezdá také nudné ako to dnešné chodenie," povedala Zuzka Peťovi. Nájdi názvy troch najstarších bánk na svete.


..... 2 3




"Zuzka, všimol som si, že v Taliansku je veľa pamiatok zapísaných v zozname UNESCO. Urobil som ti malé pexeso s nimi," povedal Peťo. Podarí sa ti vytvoriť správne dvojice?"



Piazza del Duomo, Pisa



Siena – historické centrum



Benátky



Skalná nekropola Pantalica



Etna



Zuzke sa Peťove pexeso páčilo a preto mu pripravila trixesu. S ním sa Peťo trochu potrápil, ale zvládol to. A čo ty? Vytvoríš správne trojice?"

1, Leonardo da Vinci

A,




a, huslista

2, Antonio Vivaldi

b, mesto zničené sopkou Vezuv

B,



c, maliar

3, Pompeje

C,



d, Amalfské pobrežie

4, Florencia

D,



e, bývalé centrum Rímskej ríše

5, Positano

F,



E,



e, centrum Toskánska

1 -.....-

2 -.....-.....

3 -.....-.....

4 -.....-.....

5 -.....-.....

6 -.....-.....

