



Výnimočné školy

Lenka Paseková

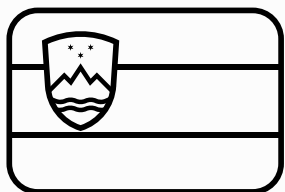
Slovensko
Príjmy

Slovinsko

"Čo sa zlostiš?" zvedavo sa pýtala Zuzka Peťa. "Ale, tu v článku zas píš, že Hlavaj je výborný slovinský brankár. Ako si to môžu pomýliť?" Slovensko a Slovinsko, v názve je rozdiel len jedno písmeno. Čo vieme o Slovinsku?



Vyfarbi vlajku Slovinska
Vyznač Slovinsko na mape Európy,



Hlavné mesto: (vyznač ho)
Najväčšie jazero:
Najväčší ostrov:
Najvyšší vrch:
Najdlhšia rieka:



Doplň správne informácie v texte:

SLOVENSKO

vs

SLOVINSKO

Slovinsko má rozlohu ako Slovensko. Obe krajiny susedia s a Slovensko vzniklo rozdelením, Slovinsko
Najvyšší vrch Slovinska (.....m.n.m) je
ako najvyšší vrch Slovenska (.....m.n.m).
Hlavou štátu v Slovinsku je, na Slovensku



Označ modrou obrázky patriace k Slovensku a zelenou k Slovinsku.



"Och ja som si myslel, že sme na tom lepšie, ale tu čítam, že Slovinsko má rozvinutú ekonomiku a dokonca majú vyššie mzdy ako u nás." Nájdi a porovnaj mzdy lekára, učiteľa a predavačky v Slovinsku a na Slovensku. Znamenajú vyššie príjmy vždy aj vyššiu životnú úroveň?

Lekár		
Učiteľ		
Predavač		

.....

.....



.....

.....

.....

.....

"Zuzka, ale veď ty si pozeráš len obrázky!" vyčítavo povedal Peťo. "To nie je pravda, pozri koľko toho viem! Ukáž mi obrázok a ja ti poviem čo to je," bránila sa Zuzka. Vieš aj ty správne priradiť názov k obrázku?



Bled

Postojnská jama

Triglav

Predjama

Lubl'ana

Soča



Zakresli miesta z predchádzajúcej úlohy do mapy a doplň 3 iné zaujímavé miesta v Slovinsku

- 1,
- 2,
- 3,



10 0 20 km