



Výnimočné školy

Lenka Paseková

Rumunsko

Platobné karty



Rumunsko

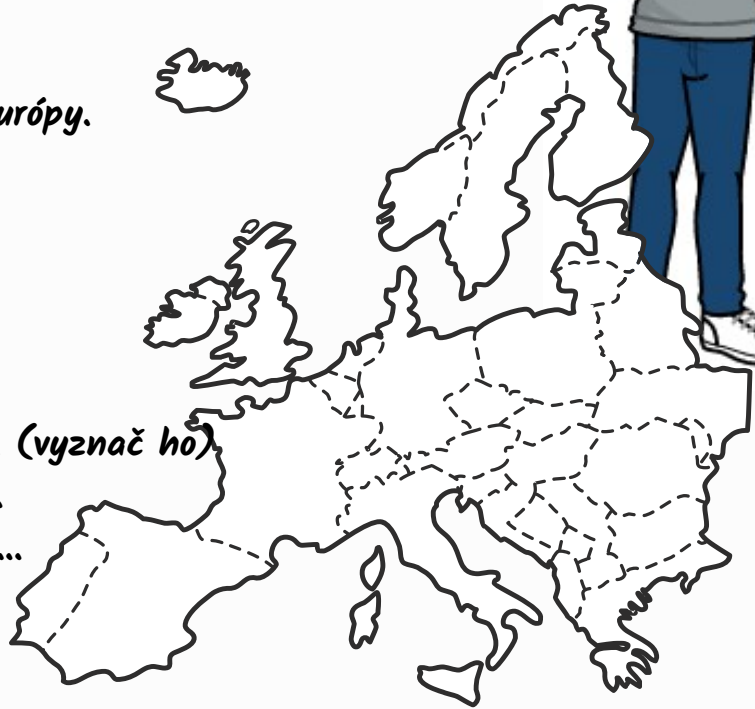
"Joj Peťo! Načo ti je takáto ohavnosť?" spýtala sa znechutená Zuzka Peťa. "To mám masku na karneval, budem Drakula" vysvetlil Peťo. "Fuj! Vieš, že Drakula má základ v reálnej osobe? Pochádzal z Transylvánie v Rumunsku." Peťa to zaujalo a chcel zistiť o krajine viac.



Vyfarbi vlajku Rumunska.
Vyznač Rumunsko na mape Európy.



--	--	--




Hlavné mesto: (vyznač ho)
Najvyšší vrch:
Najdlhšia rieka:
Mena:


Transylvánia, inak nazývaná aj sa spája s krvilačným Drakulom, ale táto oblasť je skutočným skrytým prírodným a historickým pokladom. Pomôž Peťovi zostaviť správne trojice zaujímavosti v Transylvánii.



Historické mesto



Sighișoara




Piatra Craiului

Národný park

Brašov

Rodisko Drakulu





"Peťo, pozri, tu v časopise je akurát úloha o Rumunsku a ak to pošleme, tak môžeme vyhrať vstupenky na muzikál Drakula." Podarí sa ti splniť úlohu?

Južné Karpaty

Prut

Dunaj

Brašov

Craiova

Kluž



Bukurešť

Valašská
nižina

Konstanca

Čierne
more

Transylvánska kotlina

Temešvár



"Zuzka, tu je napísané, že v Rumunsku sa ešte stále moc nevyužívajú platobné karty. To tam je asi ako u nás na trhu." Zuzka sa zamyslela a hovorí: "to sa ale asi dajú lepšie zjednávať ceny." Má Zuzka pravdu? Aké sú výhody pri platbe kartou?



Označ pravdivé tvrdenia ✓
a nepravdivé tvrdenia ✗

Nesprávne tvrdenia oprav.

Víťazný oblúk postavený hrdinom rumunskej vojny za nezávislosť (1877 – 1878) a 1. svetovej vojny sa týči do výšky 27 metrov na okraji Bukurešti.

V Rumunsku sa nenachádza žiadne ložisko zlata.

Temešvár sa stal prvým európskym sídlom s elektrickým verejným osvetlením.

Budova rumunského parlamentu je druhá najväčšia na svete.

Zlaté vráta je úžina na Balkáne, ktorou preteká rieka Dunaj.