




Výnimočné školy

Lenka Paseková

Česko
Funkcie peňazí

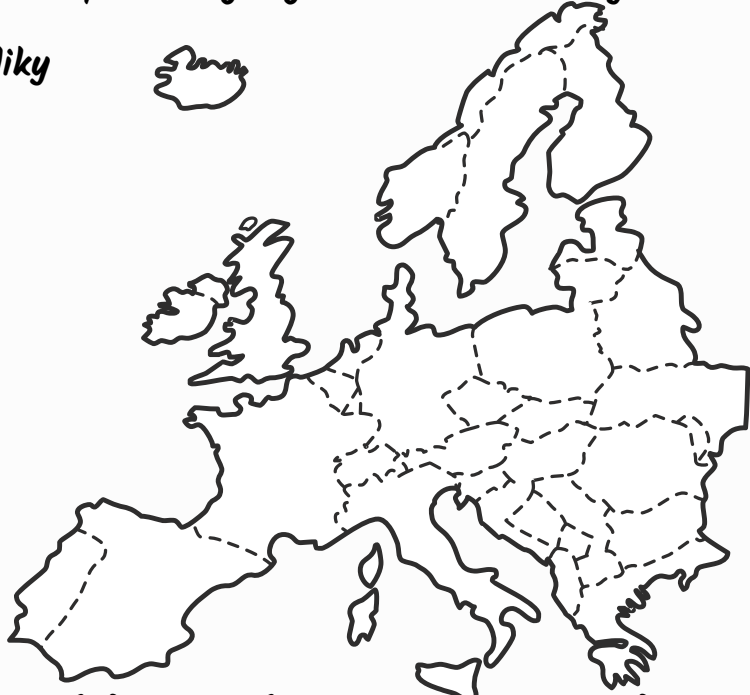
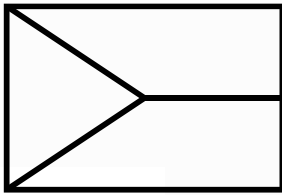


Česko

Po príchode zo školy našli deti na stole list od sesternice Katky z Prahy. Hneď ho otvorili a so záujmom začali čítať. Katka im podrobne opísala svoje prázdninové cestovanie po českých mestách. Zuzke, o ktorej vie, že zbiera pohľadnice miest poslala aj nejaké nové do zbierky.



Vyfarbi vlajku Českej republiky
Vyznač ČR na mape Európy







Hlavné mesto:(A)
Najdlhšia rieka:
Najvyšší vrch:
Peňažná mena:.....

(vyznač ho aj na mape)



Zznač v mape miesta, ktoré sú označené písmenami A-H

Z listu: *I, Veľkým zážitkom bola pre mňa návšteva.....(B) Tento areál je krajinný celok o rozlohe 283,09 km² v okrese Břeclav pri hranici s Rakúskom, od decembra 1996 zapísaný do Zoznamu svetového kultúrneho dedičstva UNESCO. Je pokladaný za najrozsiahlejšiu komponovanú krajinu v Európe*



Z listu: 2,(C) ležia na západe ČR, len kúsok od nemeckých hraníc. Ide o významné kúpeľné mesto, ktoré každoročne hostí aj známy filmový festival.

Z listu: 3, Nezabudnuteľný zážitok bola cesta lanovkou na(D). najvyššiu horu ČR, kde je aj prameň Labe.

Keď deti dočítali list, vytiahla Zuzka svoju zbierku pohľadníc. "Peťo, pozri ani na jednej z nových pohľadníc nie je na prednej strane názov mesta. Skúsme to zistiť len podľa obrázkov!" Peťo súhlasil, podarilo sa im rozlúštiť všetky 3 pohľadnice. Ako si poradiš ty?



V závere listu im urobila Katka ešte finančnú bilanciu prázdninovej cesty.

Z listu: Pred prázdninami som mala našetrených 1000 Kč. Minula som 780 Kč, najdrahšia vec bolo toto tričko, ktoré stálo 420 Kč.

Koľko eur mala Katka našetrených?

Vytvor správne dvojice

(H)

Úspory	Zúčtovacia jednotka
Minuté peniaze	Uchovávateľ hodnoty
Cena trička	Prostriedok výmeny

