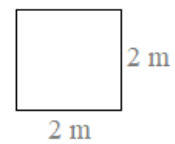
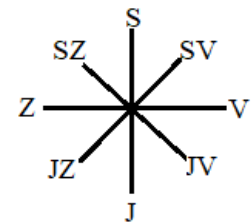
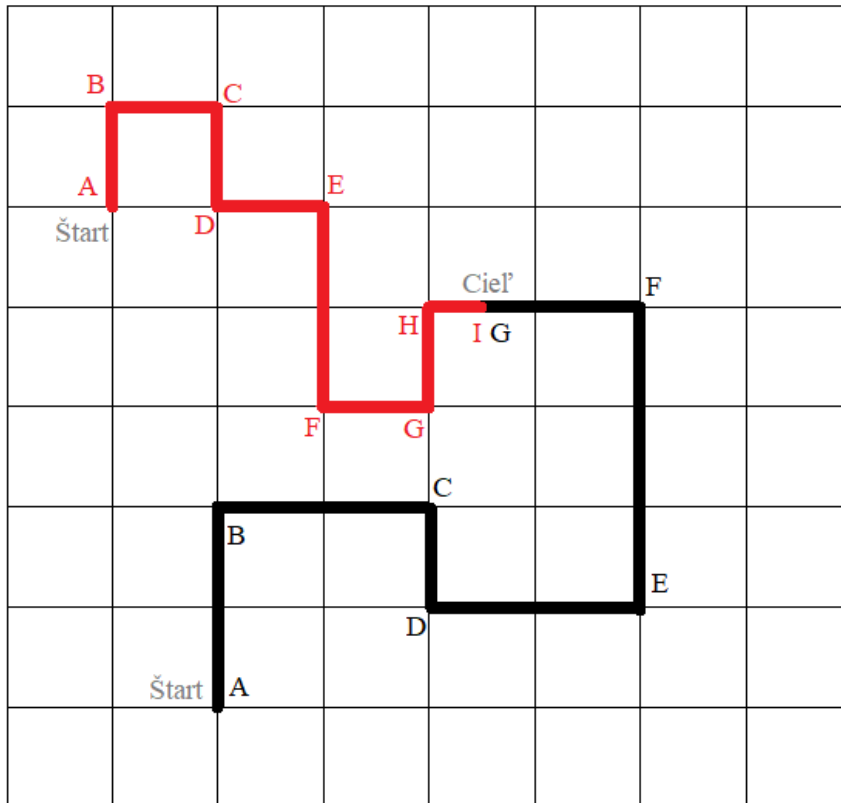


Dĺžka červenej trasy je: **17 m**

Dĺžka čiernej trasy je: **23 m**

Do chalúčky príde skôr: **červená čiapočka**



Červená čiapočka		Vlk	
AB =	sever	AB =	sever
BC =	východ	BC =	Východ
CD =	juh	CD =	Juh
DE =	východ	DE =	Východ
EF =	juh	EF =	Sever
FG =	východ	FG =	Západ

GH =	Sever		
HI =	Východ		

Keď sa červená čiapočka (červená čiara) vracia z chalúčky domov, tak už nešla tou istou trasou, akou prišla, ale išla priamo z bodu I do bodu A. Akou svetovou stranou sa vracala?

Odpoveď – **severozápadným smerom** .

Ani vlk (čierna trasa) sa nevracal domov tou istou trasou, ale tiež išiel priamo z bodu G do bodu A. Akou svetovou stranou sa vracal?

Odpoveď **juhozápadným smerom** .