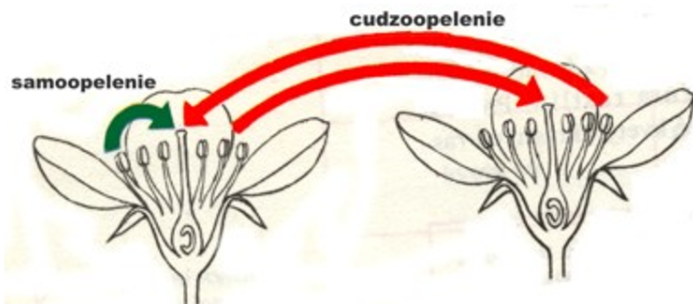


Rozmnožovanie rastlín

1. Na základe obrázka vysvetli pojmy cudzoopelenie a samoopelenie.



.....

.....

.....

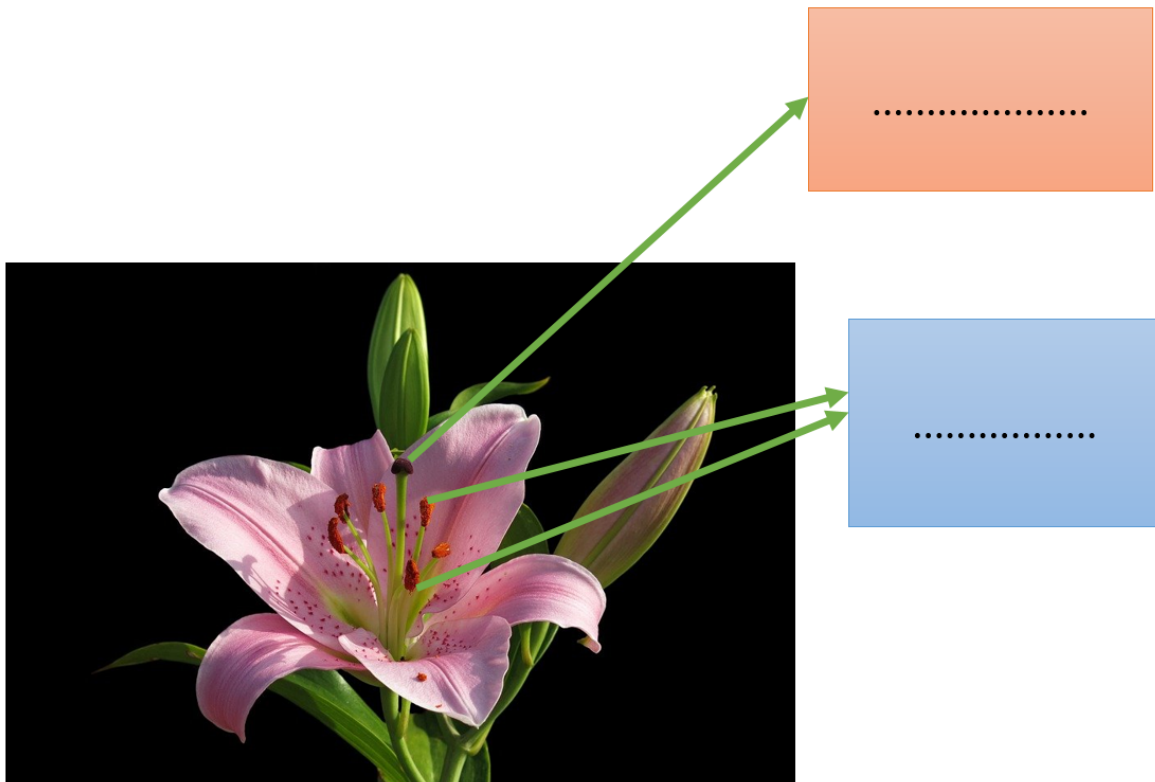
2. Vysvetli rozdiel medzi opelením a oplodnením rastliny.

.....

.....

.....

3. Doplň správne názvy útvarov na obrázku.



4., správne pomenie na základe pravosti alebo nepravosti tvrdenia. Rozmnožovateľným orgánom rastliny je (riešenie)

tajničky).

ÁNO

NIE

Semená krytosemenných rastlín sú ukryté v šiškách.

E

K

Po oplodnení sa spodná časť semenníka premení na plod.

V

U

Oplodnenie je prenesenie peľu z tyčinky na piestik.

M

E

Samičím rozmnožovaním orgánom je piestik.

T

L

5. K jednotlivým obrázkom rastlín prirad' prislúchajúci spôsob nepohlavného rozmnožovania.




.....



.....




.....



.....



.....



.....

Poplazy

Hľuza

Výtrusy

Cibuľa

Listové odrezky

Trsy